

Prezenta lucrare conține _____ pagini

**EVALUAREA NAȚIONALĂ PENTRU
ABSOLVENȚII CLASEI a VIII-a**

Anul școlar 2023 – 2024

Matematică

Numele:.....
.....
Inițiala prenumelui tatălui:
Prenumele:.....
.....
Școala de
proveniență:
.....
Centrul de examen:
Localitatea:
Județul:

Nume și prenume asistent	Semnătura

A	COMISIA DE EVALUARE	NOTA (CIFRE ȘI LITERE)	NUMELE ȘI PRENUMELE PROFESORULUI	SEMNĂTURA
	EVALUATOR I			
	EVALUATOR II			
	EVALUATOR III			
	EVALUATOR IV			
	NOTA FINALĂ			

B	COMISIA DE EVALUARE	NOTA (CIFRE ȘI LITERE)	NUMELE ȘI PRENUMELE PROFESORULUI	SEMNĂTURA
	EVALUATOR I			
	EVALUATOR II			
	EVALUATOR III			
	EVALUATOR IV			
	NOTA FINALĂ			

C	COMISIA DE EVALUARE	NOTA (CIFRE ȘI LITERE)	NUMELE ȘI PRENUMELE PROFESORULUI	SEMNĂTURA
	EVALUATOR I			
	EVALUATOR II			
	EVALUATOR III			
	EVALUATOR IV			
	NOTA FINALĂ			



- Toate subiectele sunt obligatorii.
- Se acordă zece puncte din oficiu.
- Timpul de lucru efectiv este de două ore.

SUBIECTUL I

Încercuiește litera corespunzătoare răspunsului corect.

(30 de puncte)

5p	1. Rezultatul calculului $8 + 14 : 2$ este egal cu: a) 22 b) 15 c) 11 d) 6
5p	2. Un album costă 200 de lei. După o reducere cu 20% , prețul albumului este egal cu: a) 20 de lei b) 40 de lei c) 160 de lei d) 180 de lei
5p	3. Se consideră intervalele de numere reale $I = (-\infty, 6]$ și $J = (4, +\infty)$. Intersecția intervalelor I și J este intervalul: a) $(-\infty, 4]$ b) $[4, 6)$ c) $(6, +\infty)$ d) $(4, 6]$
5p	4. Cel mai mare număr din mulțimea $A = \{5, (024); 5, (24); 5, 2(4); 5, 24\}$ este: a) 5, (024) b) 5, (24) c) 5, 2(4) d) 5, 24

5p 5. Patru elevi, Alin, Ioana, Dana și Vlad, calculează suma numerelor reale a și b pentru care $|a+3|+|b-4|=0$. Răspunsurile date de cei patru elevi sunt prezentate în tabelul de mai jos:

Alin	Ioana	Dana	Vlad
-7	-1	1	7

Rezultatul corect a fost obținut de către:

a) Alin
b) Ioana
c) Dana
d) Vlad

5p 6. Afirmația: „Numărul 1 este soluția ecuației $2x+3=4x+1$.” este:

a) adevărată
b) falsă


SUBIECTUL al II-lea

Încercuiește litera corespunzătoare răspunsului corect.

(30 de puncte)

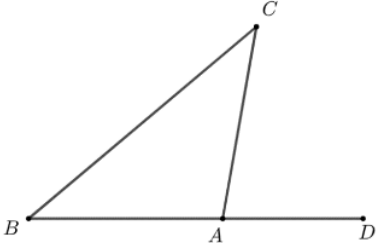
5p 1. În figura alăturată punctele A , B , C și D sunt coliniare, în această ordine, astfel încât $BC=4\text{ cm}$, $AD=4\cdot BC$ și $AB=CD$. Lungimea segmentului AB este egală cu:

a) 4 cm
b) 6 cm
c) 8 cm
d) 12 cm



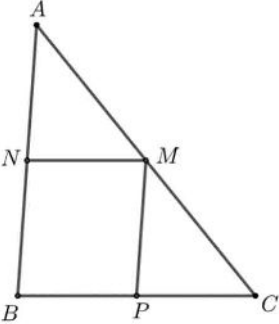
5p 2. În figura alăturată este reprezentat triunghiul isoscel ABC , cu $AB=AC$ și măsura unghiului C egală cu 40° . Punctele B , A și D sunt coliniare, în această ordine. Măsura unghiului CAD este egală cu:

a) 40°
b) 60°
c) 80°
d) 100°




5p 3. În figura alăturată este reprezentat triunghiul ABC cu măsura unghiului A egală cu 43° și măsura unghiului C egală cu 51° . Punctele M , N și P aparțin laturilor AC , AB respectiv BC , astfel încât dreapta MN este paralelă cu dreapta BC și dreapta MP este paralelă cu dreapta AB . Măsura unghiului NMP este egală cu:

a) 43°
b) 51°
c) 86°
d) 94°




(3p) b) Determină numărul băncilor din laboratorul de fizică.




5p 2. Se consideră expresia $E(x) = \left(\frac{1}{x^2 - 3x + 2} + \frac{1}{x - 1} \right) \cdot (x^2 - 4)$, unde x este număr real, $x \neq 1$ și $x \neq 2$.

(2p) a) Arată că $x^2 - 3x + 2 = (x - 1)(x - 2)$, pentru orice număr real x .



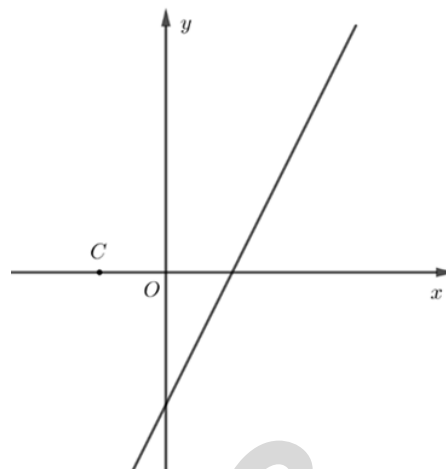

(3p) b) Determină numerele întregi n , $n \neq 1$ și $n \neq 2$, pentru care $N = \frac{5}{E(n)}$ este număr natural.




5p

3. Se consideră funcția $f: \mathbb{R} \rightarrow \mathbb{R}$, $f(x) = 2x - 1$.

(2p) a) Arată că $f(0) + f(1) = 0$.

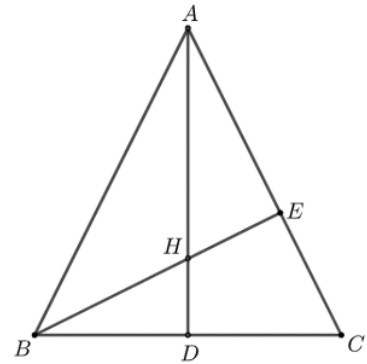



(3p) b) Reprezentarea geometrică a graficului funcției f intersectează axele Ox și Oy ale sistemului de axe ortogonale xOy în punctele A , respectiv B . Determină distanța de la punctul $C\left(-\frac{1}{2}, 0\right)$ la dreapta AB .




5p 4. În figura alăturată este reprezentat triunghiul isoscel ABC cu $AB = AC$. Înălțimea din vârful A intersectează latura BC în punctul D și $AD = BC$. Înălțimea din vârful B intersectează latura AC în punctul E . Înălțimile AD și BE se intersectează în punctul H .

(2p) a) Arată că unghiurile DAC și EBC au aceeași măsură.




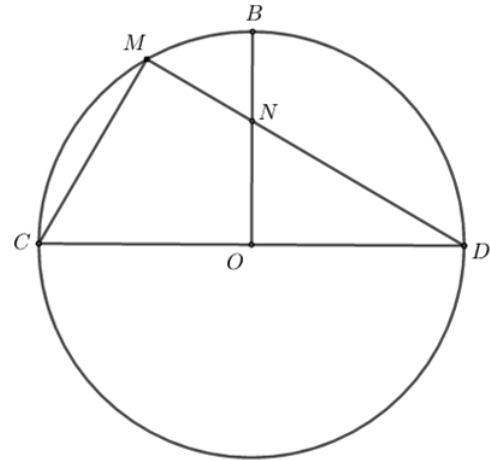
(3p) b) Demonstrează că $AH = 3 \cdot HD$.




5p

5. În figura alăturată este reprezentat cercul de centru O , în care CD este diametru. Punctul B aparține cercului astfel încât dreptele BO și CD sunt perpendiculare. Punctul M aparține arcului mic BC , dreptele DM și BO se intersectează în punctul N , $DN = 2 \cdot MN$ și $MN = 4$ cm.

(2p) a) Arată că măsura unghiului CMD este egală cu 90° .

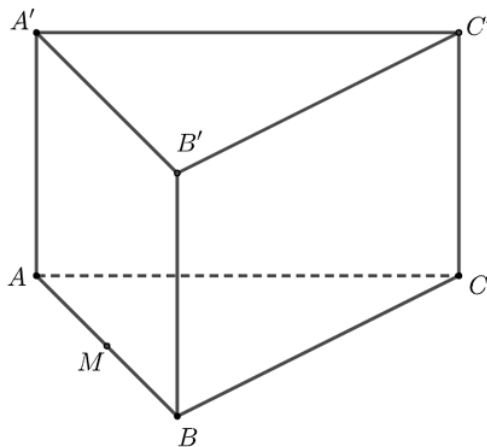



(3p) b) Calculează aria triunghiului DON .



5p 6. În figura alăturată este reprezentată prisma dreaptă $ABCA'B'C'$ cu baza triunghiul echilateral ABC , $AB = 12$ cm și $AA' = 3\sqrt{3}$ cm. Punctul M este mijlocul segmentului AB .

(2p) a) Arată că aria laterală a prismei $ABCA'B'C'$ este egală cu $108\sqrt{3}$ cm².



(3p) b) Determină distanța de la punctul M la planul $(A'B'C)$.

